



2. Ünite: DNA ve Genetik Kod

1. Birçok hayvan, buldukları ortamın zeminine fark edilemeyecek kadar iyi uyum sağlar. Bu durum kamuflaj olarak adlandırılır. Sıklıkla onların renkleri tam olarak buldukları zeminin rengine benzer. Bazı hayvanlar ise derilerindeki pigmentlerin (renk maddelerinin) dağılımlarını değiştirerek girdiği ortamın zeminine çok benzer desenlenmeler bile gösterebilir. Böylece kamuflaj, hayvanların avcılarından saklanmasına yardımcı da olur.

Bu açıklamalara göre aşağıdakilerden hangisi kamuflaja örnek verilebilir?

- A) Zehirli arıların etrafında uçan bazı sineklerin de bu arılar gibi sarı-siyah şeritlere sahip olması
B) Bazı böceklerin saldırıya uğradığında vücudundaki değişik sıvıları ortama salması
C) Bazı kelebeklerin kanat desenlerine benzer yapraklar üzerinde bulunması
D) Zehirli ok kurbağasının parlak renklenmesi nedeniyle düşmanları tarafından kolayca tanınıp av olmaktan kurtulması

2. Bir genin farklı şekillerine "alel" denir.

İklim değişikliğine bağlı olarak bir bölgede yaşanan kuraklık, tarımda verimin düşmesine neden olmuştur. Bu bölgede yeni iklim şartlarına uygun ekilebilecek bitki türünün tohumlarıyla ilgili araştırma sonuçları tablodaki gibidir:

Tohum genotipi	Tohum fenotipi
<i>DD</i> (homozigot baskın)	Kuraklığa dayanıklı
<i>Dd</i> (heterozigot baskın)	Kuraklığa dayanıklı
<i>dd</i> (homozigot çekinik)	Kuraklığa dayanıksız

Tablodaki bilgilere göre iki hipotez ortaya konmuştur:

1. **Hipotez** : *DD* genotipli tohum ile *dd* genotipli tohum çaprazlanarak tamamı kuraklığa dayanıklı tohumlar elde edilir.
2. **Hipotez** : *Dd* genotipli tohum ile *dd* genotipli tohum çaprazlanarak tamamı kuraklığa dayanıksız çekinik tohumlar elde edilir.

Verilen hipotezler için aşağıdakilerden hangisi söylenebilir?


- A) Hipotezler doğrudur. Çünkü her iki çaprazlamada da "D" aleli bulunmaktadır.
B) Hipotezler yanlıştır. Çünkü her iki çaprazlamada da "d" aleli bulunmaktadır.
C) 1. hipotez doğrudur. Çünkü çaprazlama sonucunda homozigot çekinik genotipli birey elde edilemez.
D) 2. hipotez doğrudur. Çünkü çaprazlama sonucunda heterozigot baskın genotipli birey elde edilemez.

2. Ünite: DNA ve Genetik Kod

3. Sahip olduğumuz saç şekli, kulak memesinin ayrıık veya yapışık olması, kan grupları gibi özelliklerimiz kalıtsal özellikler olup birini annemizden, diğerini babamızdan aldığımız alel (bir genin farklı çeşitleri) çifti ile kontrol edilir. Alel çifti yazılırken baskın olan alel büyük harfle, çekinik olan alel ise baskın alelin küçük harfiyle yazılır. Kalıtsal bir özellik bakımından aşağıda verilen üç durumdan birine sahip oluruz.

- AA: homozigot baskın
- Aa: heterozigot baskın
- aa: homozigot çekinik

İnsanda kıvrıkcık saç aleli, düz saç aleline baskın olduğuna göre;



şekildeki gibi düz saçlı bir anne ile heterozigot kıvrıkcık saçlı bir babanın doğabilecek çocuklarının saç şekli özelliği ile ilgili;

- AA
- Aa
- aa

genotiplerinden hangilerine sahip olması beklenemez?

- A) Yalnız I. B) Yalnız III.
C) I ve II. D) II ve III.

4. Kalıtsal özelliklerimiz (saç şekli, kan grupları, kulak memesinin yapışık veya ayrıık olması gibi) biri annemizden diğeri babamızdan aldığımız alel çifti ile kontrol edilir. Primer bağışıklık yetmezliği hastalığı, doğuştan gelen bir hastalık olup bağışıklık sistemini kodlayan genlerdeki bir hatadan kaynaklanmaktadır. Bu hastalığa sahip bireyler birçok hastalığa karşı savunmasız kalmaktadır.

Bu konu ile ilgili araştırma yapan bir doktor açıklamasında “Akraba evliliği, primer bağışıklık yetmezliklerinin ortaya çıkmasında en önemli nedenlerden biridir. Akraba evliliği ile zararlı çekinik alellerin bir araya gelmesi çocukların doğuştan hasta olmasına neden oluyor.” demiştir. (Alel: Bir genin farklı çeşitleridir.)

Zeynep, yukarıda verilen haberde geçen “Akraba evliliği ile zararlı çekinik alellerin bir araya gelmesi çocukların doğuştan hasta olmasına neden oluyor” cümlesini okuduğunda,

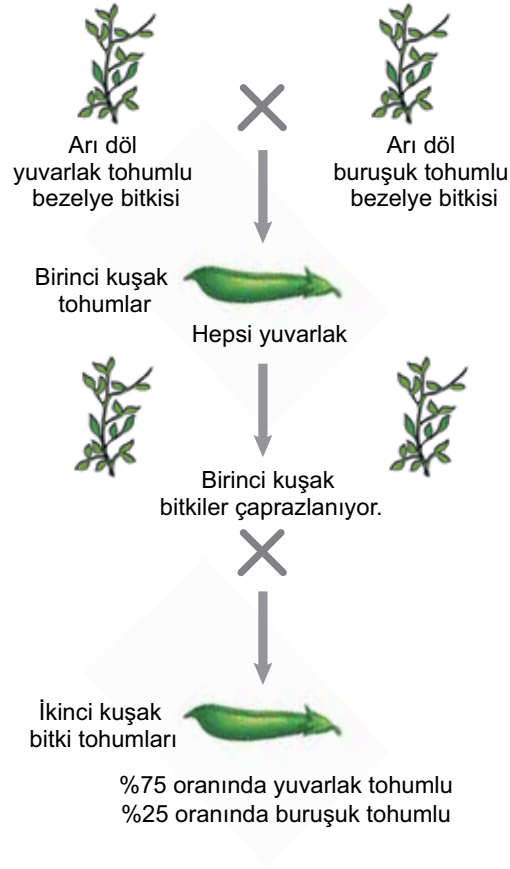
- Hastalığın ortaya çıkmasında, hastalığa yol açan alelin tek bir ebeveynden gelmesi yeterlidir.
- Sağlıklı görünen anne babanın çocukları sağlıklı olmayabilir.
- Tüm akraba evliliklerinde bu hastalık kesinlikle ortaya çıkar.

çıkarımlarından hangilerine ulaşabilir?

- A) Yalnız I. B) Yalnız II.
C) II ve III. D) I, II ve III.

2. Ünite: DNA ve Genetik Kod

5. Bir arařtırmada bezelye bitkisinin tohum řeklinin kalıtımıyla ilgili ařađıdaki aprazlamalar yapılmıřtır.

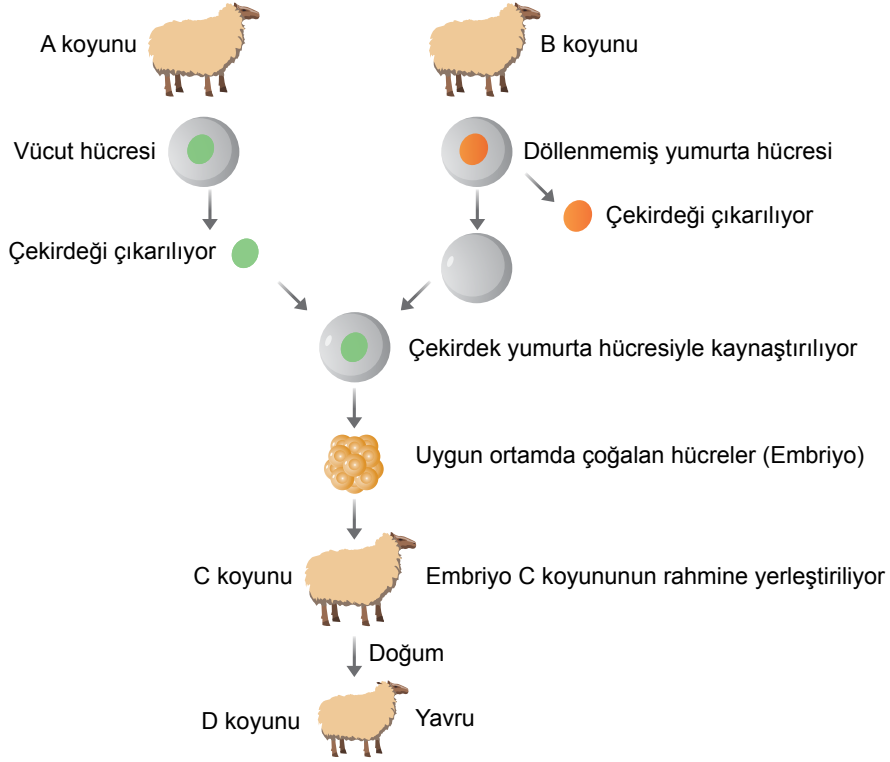


Yapılan bu alıřmaya göre ařađıdaki ifadelerden hangisi dođrudur?

- A) Buruřuk tohumlu olma özelliđi, yuvarlak tohumlu olma özelliđine baskındır.
- B) İlk aprazlama sonucu oluřan bitkilerin hibiri ekinik fenotipte deđildir.
- C) İlk aprazlama sonucu oluřan tohumların genotipi, baskın özellikteki arı döldür.
- D) İkinci aprazlama sonucu oluřan yuvarlak tohumların tamamının genotipi melezdir.

2. Ünite: DNA ve Genetik Kod

6. Aşağıda koyunlarda gerçekleştirilen klonlamanın aşamaları şema ile gösterilmiştir.



Bu şema ile ilgili olarak,

- I. Vücut hücresine ait çekirdeğin aktarıldığı yumurta hücresi, uygun ortamda embriyoyu oluşturmuştur.
- II. D koyununun genetik yapısı C koyunu ile aynıdır.
- III. D koyunu eşeyli üreme ile oluşmuştur.

ifadelerinden hangileri doğrudur?

- A) Yalnız I. B) I ve III.
C) II ve III. D) I, II ve III.

2. Ünite: DNA ve Genetik Kod

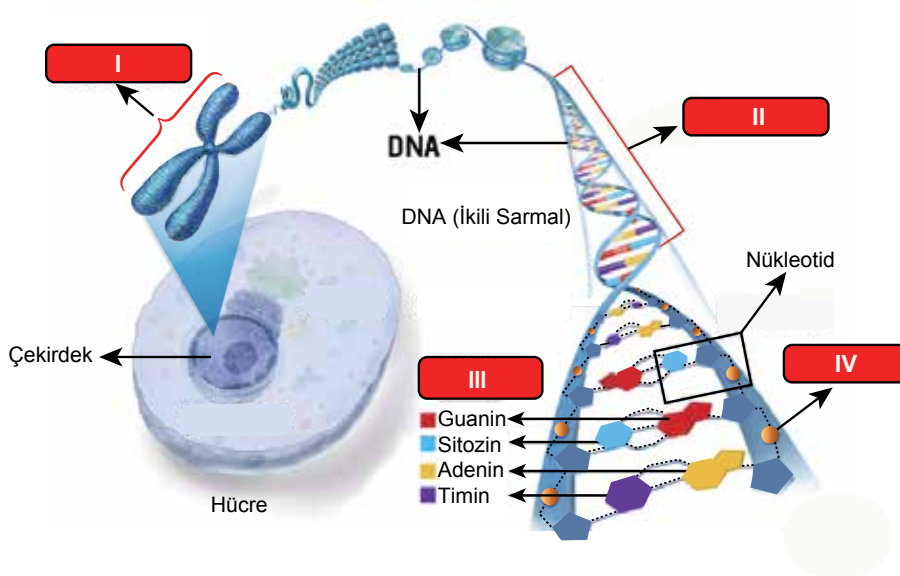
7. Öğrenciler sınıfta bilimsel bir dergide yer alan aşağıdaki metni okuyorlar.

Ormanlık bir alandaki geyik sayısını artırmak isteyen yetkililer bu bölgede geyikleri tehdit eden unsurları ortadan kaldırıyor. Başlangıçta geyiklerin sayıları giderek artıyor. Ancak geyiklerin sayısı arttıkça birey başına düşen besin miktarı ve yaşam alanı azalıyor. Yaşam için gerekli kaynaklar azaldığından bireyler arasında rekabet, hastalık ve yavrularda ölümler artıyor. Bundan sonra nüfus artış hızı giderek yavaşlıyor. Ortamın koşullarına uygun özellikler taşıyan ve bunları yeni kuşaklara aktarabilen bireyler yaşamaya devam ediyor.

Öğrencilerin bu metinden hareketle yapmış olduğu aşağıdaki çıkarımlardan hangisi yanlıştır?

- A) Geyiklerin sayısı, ortamın kaynak miktarı ile kontrol edilmektedir.
- B) Yaşam alanındaki değişimler, bu değişimlere uygun özellik taşıyan geyiklerin seçimini destekler.
- C) Geyiklerin kullandığı kaynakların azalması, kaynakların kullanımında rekabete yol açar.
- D) Geyiklerin artış hızı, düşmanlarının olmadığı alanlarda sürekli olarak yükselir.

8. Aşağıda hücre çekirdeğinde bulunan kalıtsal materyaller arasındaki ilişki gösterilmiştir.

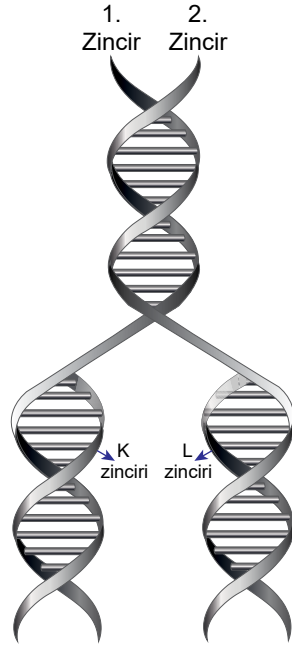


Buna göre numaralanmış yapılarla ilgili aşağıdakilerden hangisi yanlıştır?

- A) I, farklı canlı türlerinde farklı sayılarda bulunabilir.
- B) II, belirli bir karakterden sorumlu bir geni ifade ediyor olabilir.
- C) III ile gösterilen moleküller, tüm canlıların DNA'larında da bulunur.
- D) IV ile gösterilen molekül, tüm canlı türlerinde farklılık gösterir.

2. Ünite: DNA ve Genetik Kod

9. Esra Öğretmen, görseldeki DNA'nın kendini eşlemesi sırasında yeni oluşan K ipliğinin "1. Zincir", yeni oluşan L ipliğinin ise "2. Zincir" in kopyası olduğunu öğrencilerine anlatıyor.



Bu görsel ile ilgili öğrenciler tarafından yapılan;

- I. Yeni oluşan K ve L ipliklerinin nükleotid dizilişleri birbirinden farklıdır.
- II. DNA'nın 1. ve 2. zincirlerinin nükleotid dizilişleri aynıdır.
- III. Eşlenme tamamlandığında birbirinin aynısı olan iki DNA sarmalı oluşur.

yorumlarından hangileri doğrudur?

- A) Yalnız II. B) I ve II.
C) I ve III. D) I, II ve III.

10. Aşağıdaki görselde bir erkek kemancı yengeci görülmektedir.



Erkek kemancı yengecinın kısıkaçlarından biri, vücut kütlesinin yarısına kadar gelişebilmektedir. Diğer kısıkacı ise havaya kaldırdığı büyük kısıkaçtan çok daha küçüktür. Büyük kısıkaçlarını havada sallaması, kendisine yaklaşan diğer erkek yengeç ve avcılarını geri püskürtür. Bu hareket aynı zamanda dişi yengeçlerin dikkatini çekerek üremesine yardımcı olur. Ayrıca yengecin gözlerinin, başının yukarısındaki saplarda yer alması da onun, avcılarını çok uzaktan görebilmesini sağlar. Dolayısıyla bu yengeçlerin kısıkaçları ve gözleri, onun hayatta kalmasını ve soyunun devamını sağlayan en önemli özellikleridir.

Bu metne göre erkek kemancı yengeçleri ile ilgili aşağıdakilerden hangisi yanlıştır?

- A) Büyük kısıkaca ve farklı gözlere sahip olması, bulunduğu çevreye uymasını kolaylaştırır.
- B) Gözlerinin konumlanma biçimi, avcılarından korunmasına yardımcı olur.
- C) Büyük kısıkaca sahip olması, uygun dişi bireyler tarafından seçilimini kolaylaştırır.
- D) Büyük kısıkacı ve gözlerinin konumu kalıtsal olmayıp yalnızca çevrenin etkisiyle ortaya çıkmıştır.

2. Ünite: DNA ve Genetik Kod

11. Aşağıda bazı canlı türlerinin kromozom sayıları belirtilmiştir.



İnsan
(Kromozom sayısı: 46)



Köpek
(Kromozom sayısı: 78)



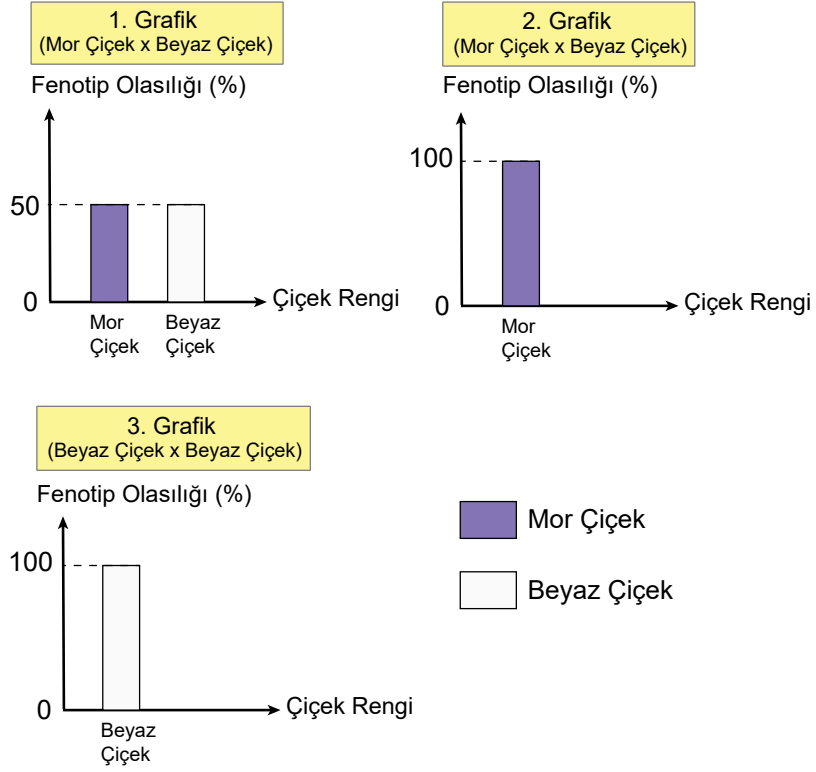
Kurtbağrı Bitkisi
(Kromozom sayısı: 46)

Verilen görsellere bakılarak aşağıdakilerden hangisine ulaşamaz?

- A) Kromozom sayısı canlı türlerinde farklılık gösterebilir.
- B) Farklı türlerin DNA'larının nükleotid dizilimleri aynı olabilir.
- C) Kromozom sayıları canlıların gelişmişliği hakkında bilgi veremez.
- D) Farklı türe ait canlıların kromozom sayıları aynı olabilir.

2. Ünite: DNA ve Genetik Kod

12. Ali, bezelyelerde çiçek renginin kalıtımı üzerine yaptığı araştırma sonuçlarında topladığı verileri grafiklerle göstermiştir.




Ali'nin yaptığı bu araştırmalardan aşağıdakilerden hangisine ulaşamaz?


- A) Mor çiçek özelliği baskın, beyaz çiçek özelliği çekiniktir.
- B) 1. Grafik'te çaprazlanan mor çiçekli bezelyelerin genotipi heterozigottur.
- C) 2. Grafik'te oluşan bezelyelerin tamamının genotipi heterozigottur.
- D) 3. Grafik'te çaprazlanan beyaz çiçekler ile oluşan beyaz çiçeklerin genotipleri birbirinden farklıdır.

2. Ünite: DNA ve Genetik Kod


13. Aşağıdaki görseller yeni sönmüş bir yangının ardından siyahlaşmış toprak üzerinde yaşayan güveleri temsil etmektedir.



Şekil-I



Şekil-II



Şekil-III





Başlangıçta güve topluluğu farklı kalıtsal özelliklere sahip bireylerden oluşmaktadır (Şekil-I). Ancak açık renkli güveler avcı kuşlar tarafından kolayca fark edilerek avlanmışlardır (Şekil-II). Hayatta kalmayı başaran kömür rengi güveler ise üremeye devam ederek bu özelliklerinin varlığını korumuşlardır (Şekil-III).

Bu görsel ve açıklamalara göre aşağıdaki ifadelerden hangisi yanlıştır?

- A) Başlangıçta güvelerde renklenme ile ilgili kalıtsal varyasyonlar bulunmaktadır.
- B) Açık renkli güvelerin avcı kuşlar tarafından yok edilmeleri doğal seçimle elenmedir.
- C) Koyu renkli güvelerin hayatta kalması çevre etkisiyle ortaya çıktığından modifikasyona örnektir.
- D) Değişen ortam şartları güvelerde yarar sağlayan kalıtsal özelliklerin devam etmesinde etkili olmuştur.

2. Ünite: DNA ve Genetik Kod

14. Bir öğrenci "DNA ve Genetik Kod" ünitesiyle ilgili şu posterini oluşturmuştur.

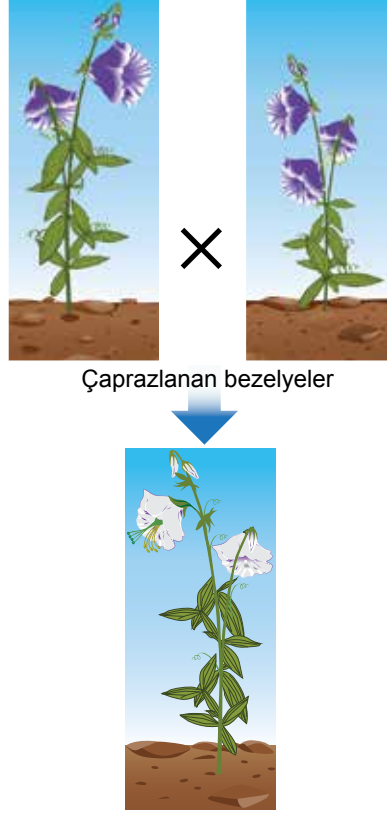
<p>Kraliçe Arı</p>  <p>Dişi larvaların arı sütüyle beslenmesi sonucu kraliçe arı oluşurken polenle beslenmesi sonucunda işçi arıların oluşması</p>  <p>İşçi Arı</p>	<p>Buz yastığı</p>  <p>Himalaya tavşanının beyaz kıllarının bir kısmı kesildikten sonra bölgeye buz yastığı konduğunda, çıkan kılların siyah olması</p>
	 <p>Aynı genotipe sahip çuha bitkilerinden 15-20°C'de yetiştirilenlerin kırmızı, 30-35°C'de yetiştirilenlerin beyaz çiçek açması</p>

Posterdeki örnekler incelendiğinde, aşağıdaki çıkarımlardan hangisine ulaşılabılır?

- A) Çevresel faktörler canlıların genetik yapısında değişikliğe yol açabilir.
- B) Çevresel faktörlerin etkisiyle canlılarda meydana gelen her değişiklik yavru döllere aktarılabilir.
- C) Çevresel faktörlerle canlıların dış görünüşlerinde değişiklikler meydana gelebilir.
- D) Çevresel faktörlerde değişiklik olmazsa bir türe ait canlıların genotipleri birbirinin aynısı olur.

2. Ünite: DNA ve Genetik Kod

15. Aşağıda iki bezelye bitkisinin çiçek rengi bakımından çaprazlanması sonucu oluşan yavru bezelye bitkisi gösterilmektedir.



Mor çiçek özelliğinin beyaz çiçek özelliğine baskın olduğu bilindiğine göre çaprazlanan mor çiçekli bezelyeler,

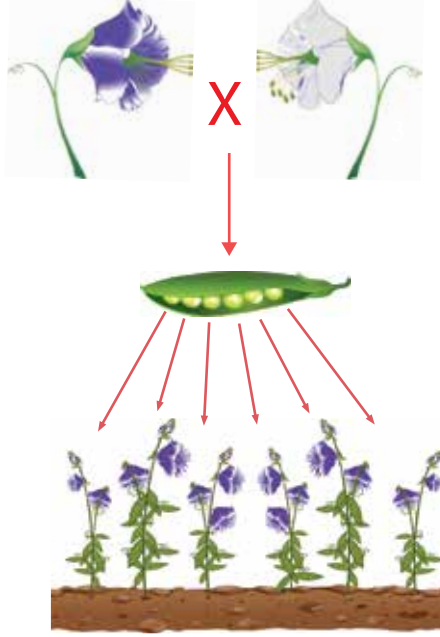
- I. $Aa \times Aa$
- II. $Aa \times aa$
- III. $AA \times aa$

genotiplerinden hangilerine sahip olabilir?

- A) Yalnız I. B) I ve II. C) II ve III. D) I, II ve III.

2. Ünite: DNA ve Genetik Kod

16. Mendel, homozigot mor ve beyaz çiçekli bitkileri çaprazlayarak elde ettiği tohumları ekmiş ve gelişen yavru bezelyelerin çiçek renklerini gözlemlemiştir.



Gelişen bezelyelerin bütün çiçeklerinin mor renkli olduğu gözlemlendiğine göre bu bezelyeler ile ilgili,

- I. Bezelyelerde mor çiçek özelliği beyaz çiçek özelliğine baskındır.
- II. Yavru bezelyelerin çiçek rengi bakımından genotipleri heterozigottur.
- III. Yavru bezelyeler kendi arasında çaprazlandığında beyaz çiçekli bezelye oluşma ihtimali $3/4$ 'tür.

yorumlarından hangileri yapılamaz?

- A) Yalnız I. B) Yalnız III. C) I ve II. D) II ve III.



Cevap anahtarına ulaşmak için karekodu okutunuz.